

نام: نام خانوادگی: نام پدر:	بسمه تعالی آموزش و پرورش شهرستان ابهر نوبت اول-دی ماه ۱۴۰۰	دبستان: دخترانه سما مدت امتحان: ۶۰ دقیقه آزمون مداد کاغذی درس ریاضی
-----------------------------------	--	---

۱۹- با توجه به جدول ارزش مکانی روبرو، به سوالات زیر پاسخ دهید.

میلیون			هزار					
ص	د	ی	ص	د	ی	ص	د	ی
۸	۰	۶	۴	۷	۲	۰	۹	۵

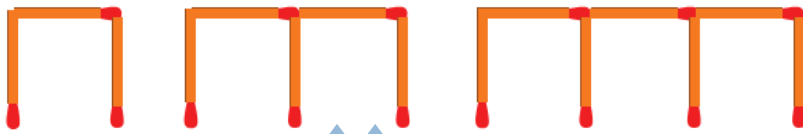
الف) به رقم بنویسید.....

ب) به حروف بنویسید.....

ج) در مرتبه صدگان هزار چه رقمی قرار دارد؟.....

د) بزرگ ترین رقم در چه مرتبه ای قرار دارد؟.....

۲۰- با توجه به الگوی زیر شکل ششم از چند چوب کبریت تشکیل می شود؟ رابطه الگوها را بنویسید



شکل (۱)

شکل (۲)

شکل (۳)

شکل (۶)

۳- عبارات زیر را به صورت تقریبی بدست آورید.

$$51 + 67 \rightarrow$$

$$25 \times 32 \rightarrow$$

$$89 - 42 \rightarrow$$

$$77 \times 69 \rightarrow$$

$$49 + 51 \rightarrow$$

$$47 \times 23 \rightarrow$$

۴- پاسخ دهید.

الف) کسرهای زیر را باهم مقایسه نمایید؟

$$\frac{5}{15} \bigcirc \frac{2}{3}$$

$$\frac{4}{7} \bigcirc \frac{4}{10}$$


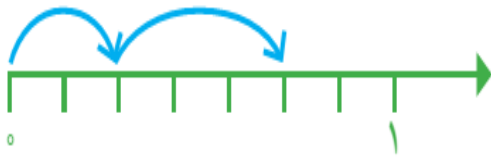
$$\frac{1}{3} \bigcirc \frac{7}{21}$$

$$\frac{2}{3} \bigcirc \frac{4}{12}$$

ب) خمس عدد ۲۰ را بدست آورید.

دبستان: دخترانه سماء مدت امتحان: ۶۰ دقیقه آزمون مداد کاغذی درس ریاضی	بسمه تعالی آموزش و پرورش شهرستان ابهر نوبت اول-دی ماه ۱۴۰۰	نام: نام خانوادگی: نام پدر:
--	--	-----------------------------------

۵- برای هر شکل جمع و تفریق بنویسید.



$$\underline{\quad} + \underline{\quad} =$$

$$\underline{\quad} - \underline{\quad} =$$

* جمع و تفریق های زیر را حل نمایید.

$$\frac{9}{13} - \frac{5}{13} =$$

$$\frac{2}{5} - \frac{1}{5} =$$

$$\frac{7}{18} + \frac{2}{9} =$$

$$\frac{1}{6} - \frac{1}{12} =$$

۶- حاصل ضرب های زیر را به روش خواسته شده حل نمایید.

فرآیندی

ضرب
مساحتی

تکنیکی

$$\begin{array}{r} 138 \\ \times 24 \\ \hline \end{array}$$

$$\begin{array}{r} 22 \\ \times 13 \\ \hline \end{array}$$

$$\begin{array}{r} 243 \\ \times 648 \\ \hline \end{array}$$

جزوه پستی

۷- تقسیم ها را انجام دهید و رابطه ی تقسیم را برای هر کدام بنویسید.

$$43 \overline{) 7}$$

$$54 \overline{) 7}$$

دبستان: دخترانه سماء مدت امتحان: ۶۰ دقیقه آزمون مداد کاغذی درس ریاضی	بسمه تعالی آموزش و پرورش شهرستان ابهر نوبت اول-دی ماه ۱۴۰۰	نام: نام خانوادگی: نام پدر:
--	--	-----------------------------------

۸- ابوالفضل $\frac{9}{15}$ از تکالیف خود را دیروز نوشته و $\frac{4}{15}$ آن را امروز نوشته است چه کسری از تکالیفش را هنوز نوشته است؟

۹- در یک سالن ۱۵ ردیف صندلی چیده شده است. در هر ردیف ۱۹ صندلی قرار دارد. در این سالن روی هم چند صندلی چیده شده است؟

۱۰- برای ضرب ۱۴×۲۵ یک مسئله بنویسید و آن را حل کنید

دختران خوبم با توکل بر خدا موفق باشید.

جزوه سپی

باز خورد آموزگار:

مقدم

باز خورد اولیا: